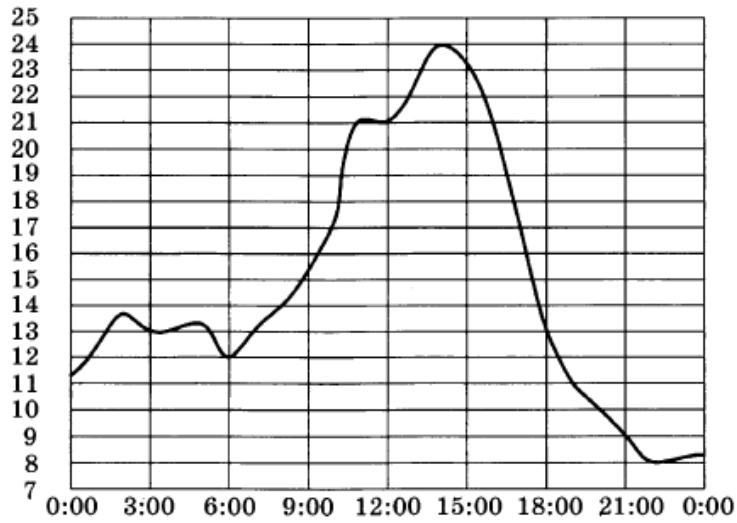
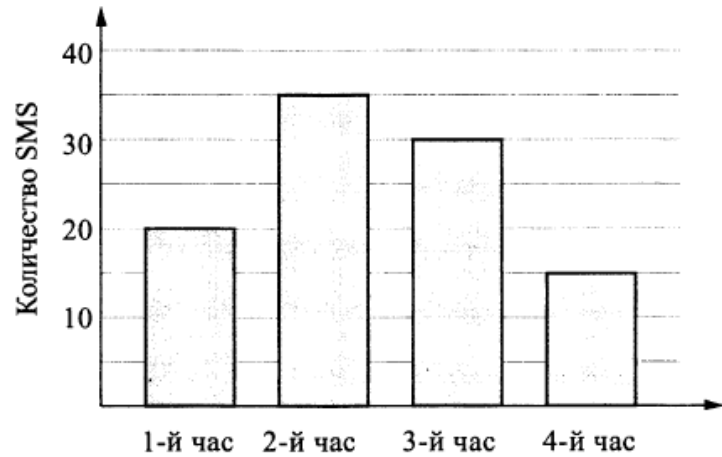


Найдите во **второй половине дня**:

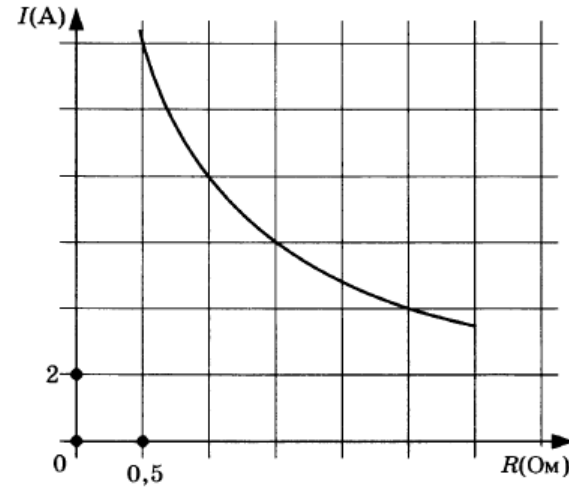
- Наименьшее значение температуры
- Разность между наибольшим и наименьшим значением
- Сколько часов температура превышала 13 градусов



На сколько больше сообщений было прислано за первые два часа по сравнению с последними двумя часами?



Сила тока		8	
Сопротивление	1		0,5..1



Кто быстрее проплыл **первую половину** дистанции и на сколько секунд он обогнал соперника?

